


II. Travail sur document (7 points)

Une usine d'automobiles du constructeur japonais Nissan à Barcelone (Espagne) en 2000



1) Dans quelle usine et à quelle date a été prise cette photographie ? (1 point)

.....
.....

2) Décrivez les différents moyens utilisés pour assembler les produits dans cette usine ? (2 points)

.....
.....
.....

3) Expliquez les avantages de cette organisation du travail et de ces équipements pour l'entreprise Nissan. (2 points)

.....
.....
.....

4) Expliquez dans quelle mesure ce document illustre l'évolution du système de production des entreprises au XXe siècle. (2 points)

.....
.....
.....
.....
.....

I. Questions (6 points)

1) Définissez la notion d'étalement urbain. (1 point)

.....

.....

.....

2) Citez un risque naturel touchant le territoire métropolitain, et un risque naturel touchant les DROM. (1 point)

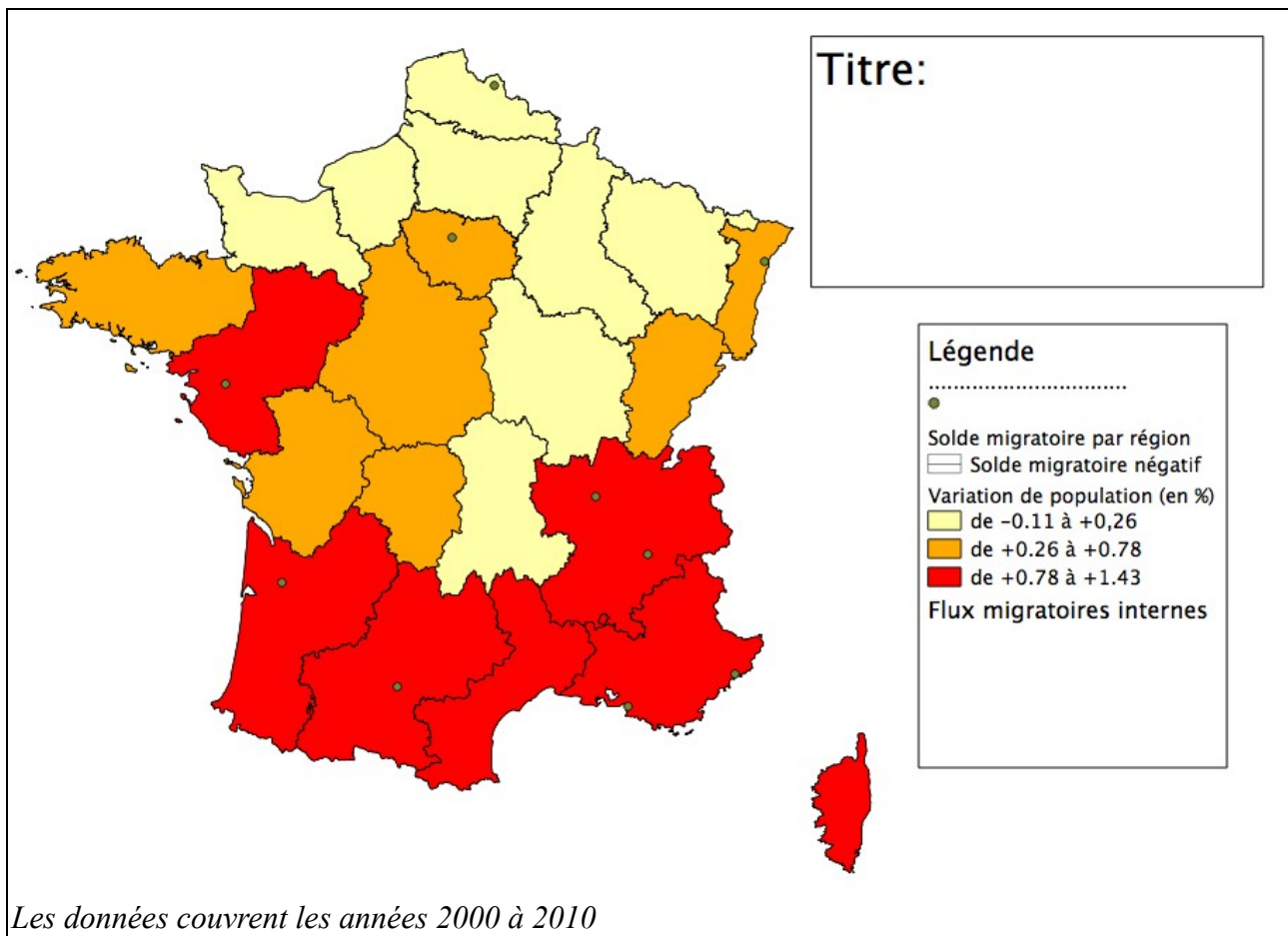
.....

.....

3) Dans un réponse développée et organisée et en prenant exemple sur le cas étudié en classe, vous expliquerez les facteurs de localisation et le fonctionnement d'un espace productif agricole. (4 points)

[illegible]

II. Travail sur document (7 points)



- 1) Complétez dans la légende les éléments manquants (titre du premier figuré, figuré pour « Flux migratoires internes ») (1 point)
- 2) Complétez la carte en y ajoutant les « Flux migratoires internes ». (1 point)
- 3) Localisez, en reportant leur nom sur la carte, les agglomérations de Bordeaux, Toulouse, Nantes et Strasbourg. (1 point)
- 4) Donnez un titre à cette carte (1 point)
- 5) Quelles régions gagnent des habitants? Pourquoi? (1,5 points)

.....

.....

.....

.....

.....

.....

- 6) Quelles régions perdent des habitants? Pourquoi? (1,5 points)

.....

.....

.....

.....

.....

.....

I. Questions (5 points)

- 1) Vous expliquerez le sens de la phrase « Le suffrage est toujours universel, égal et secret » (2 points)

.....

.....

.....

.....

- 2) Depuis quand la citoyenneté européenne existe-t-elle ? Qui en bénéficie ? Quels droits ouvre-t-elle ? (3 points)

.....

.....

.....


.....

.....

II. Travail sur document (5points)

Dessin de Françoise Ménager, 1989.

- 1) Décrivez le dessin. Comment montre-t-il l'application du principe de laïcité à l'école ? (2,5 points)



.....

.....

.....

.....

.....

.....

.....

.....

.....

.....

- 2) Quels sont les autres principes de la République française ? (2,5 points)

.....

.....

.....

.....

.....