

## CHAPITRE 7 : HABITER LA VILLE

*Problématique : quels usages les habitants font-ils des différents espaces de la ville ?*

### Plan :

- I. Habiter Paris
- II. Habiter Mumbai (Bombay)
- III. Habiter les villes du monde

### Capacités :

- **Situer** les espaces étudiés
- **Décrire** les paysages étudiés et expliquer leurs transformations
- **Réaliser un croquis** de paysage

### Lexique :

- Banlieue : p 222 : ensemble des communes qui entourent une grande ville. Ces communes sont reliées au centre par un réseau de transport.
- Lotissement : p 222 : ensemble de maisons se ressemblant.
- Grand ensemble (ou cité) : p 222 : groupe de barres et de tours d'habitations formant un quartier au sein de la banlieue.
- Agglomération : p 222 : ensemble urbain composé de la ville et de ses banlieues.

## I. Habiter Paris

### 1) Habiter le centre-ville

Capitale de la France, Paris est une ville fortement marquée par l'histoire. Elle possède d'importantes fonctions politiques et économiques. C'est aussi un grand centre culturel et l'une des premières villes touristiques du monde.

La population de Paris est cosmopolite (habité par des citoyens du monde entier). Ses paysages sont très variés.

### 2) habiter la banlieue de Paris

	<b>Doc 4 : LA COURNEUVE (Seine-Saint-Denis)</b>	<b>Doc 5 : LE VESINET (Yvelines)</b>	<b>Doc 6 : SAINT-MAURE-DES-FOSSES (Val de Marne)</b>
Localisez la commune par rapport à Paris (doc 1)	Au nord de Paris	À l'ouest de Paris	À l'est de Paris
Calculez la distance au centre de Paris (Ile de la Cité) en utilisant l'échelle (doc 1)	Environ 8 km	Environ 18 km	Environ 13 km
Quelle catégorie de population habite ici ? (doc 8)	Populations pauvres : -revenus moyens 13500 € -tx de chômage : 14,5%	Populations riches : -revenus moyens 76000 € -tx de chômage : 6%	Classes moyennes : -revenus moyens 36000 € -tx de chômage : 8%
Quels sont les types de logements visibles ? (doc 3)	Grands ensembles (tours, barres) Pavillons	Grandes villas entourées d'immenses jardins	Lotissement pavillonnaire
Pourquoi habiter ici ?	Logements sociaux (HLM) Logements moins chers qu'à Paris	Cadre de vie très agréable	Logements et terrains moins chers qu'à Paris ou en proche banlieue

			Cadre de vie agréable (calme, nature, plus d'espace)
Quels sont les inconvénients d'habiter là ? (doc 9 et 10)	Insécurité Mauvaise réputation Éloignement Logements dégradés	Prix du logement très élevé	Éloignement du lieu de travail et des services (migrations)

L'Île de France compte environ 11 millions d'habitants répartis tout autour de Paris dans des banlieues\*. A l'ouest et au sud, les familles aisées vivent surtout dans des maisons individuelles ou des lotissements\*. Le nord et l'est regroupent des populations habitants dans des grands ensembles\*, parfois dans des quartiers dits « sensibles ».

### 3) la transformation des banlieues

L'agglomération\* parisienne se transforme. La politique de la ville vise à réhabiliter les quartiers défavorisés : les barres des années 1960 sont détruites pour laisser place à des logements plus humains. Mais les changements sont lents.

## II. Habiter Mumbai (Bombay)

### 1) Des habitants de plus en plus nombreux

Mumbai sur la côte ouest de l'Inde, en Asie du sud, est l'une des villes les plus peuplées du monde. Les habitants sont de plus en plus nombreux : Mumbai avait 3 millions d'habitants en 1950 ; il y en a 19 millions aujourd'hui. Et cette augmentation devrait se poursuivre dans les années à venir. La ville s'étend sans cesse sur l'espace environnant.

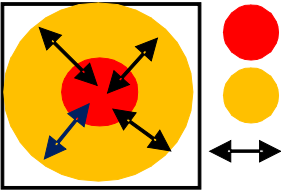

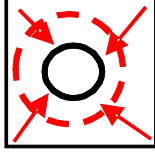
### 2) vivre à Mumbai

	<b>Doc 1 : LE VIEUX CENTRE DE MUMBAI (Nariman Point)</b>	<b>Doc 3 : MARINE DRIVE</b>	<b>Doc 4: DHARAVI</b>
Localisez les quartiers dans Mumbai à l'aide du doc 1 p 224	Sud de Mumbai	Sud Est de Mumbai	Nord de Nariman Point
Décrivez les logements	Immeubles anciens à 3 étages (période coloniale)	Immeubles modernes à plus de 20 étages	Bidonvilles : habitat précaire fait de matériaux de récupération (tôles, bois, cartons, bâches). Aucune hygiène.
Quel est le niveau de richesse des populations ?	<u>Doc 5 p 227</u> : classe moyenne (Tarun Satiya a un chauffeur, habite dans une résidence gardée, un 3 pièces coquet, dans un quartier riche qui dispose de nombreux services)	Population aisée	Population pauvre <u>Doc 2 p 226</u> : <u>quels sont leurs petits métiers ?</u> Marchands de glaces ou de noix de coco, cireurs de chaussures...

Les espaces urbains de Mumbai sont très différents. Aux bidonvilles les plus pauvres (Dharavi) s'opposent des quartiers riches comme Nariman ou Marine Drive, plutôt situés au centre, près de l'ancien quartier colonial. Les écarts de richesse entre les populations sont considérables. Les plus riches côtoient dans la rue les plus pauvres, souvent récemment arrivés de la campagne et condamnés pour survivre à faire de petites métiers.

## III. Habiter les villes du monde

## 1) Paris et Mumbai

	PARIS	MUMBAI
<p><b>Organisation</b></p> <p>1) doc 2 p 220 &amp; doc 1 p 226 : que trouve-t-on dans les centres-villes ? Pourquoi les habitants se rendent-ils au centre-ville ?</p> <p>2) doc 4-6 p 223 &amp; doc 4 p 225 : que trouve-t-on dans les périphéries ?</p>	 <p>● Le centre-ville: forte densité, beaucoup de services (commerces, mairies, lycées, ...)</p> <p>● Les périphéries (surtout des zones d'habitation)</p> <p>↔ Les habitants vont au centre pour faire des courses, travailler, se détendre ...</p>	
<p><b>Dynamique</b></p> <p>1) doc 1 p 222 &amp; doc 1 p 224 : comment évoluent les deux villes ?</p> <p>2) doc 6 p 223 &amp; doc 4 p 225 : où s'installent les nouveaux habitants des villes ?</p>	<p>La population augmente peu sauf en périphérie. La ville s'étale:</p>  <p>→ périurbanisation</p>	<p>La population augmente très fortement. La ville s'étale:</p>  <p>→ exode rural</p>
<p><b>Conditions de Vie</b></p> <p>1) Doc 5 p 221 &amp; doc 4 p 227 : de quels équipements disposent les habitants de Paris ? De quoi manquent certains habitants de Mumbai ?</p> <p>2) Doc 4-6 p 223 &amp; doc 1-4 p 226-227 : y a-t-il des différences de richesses dans les deux villes ?</p>	<p>Les habitants disposent de nombreux équipements (hôpitaux, cinéma, tram, ...).</p> <p>Selon leurs revenus, les habitants n'habitent pas dans les mêmes quartiers.</p>	<p>Beaucoup d'habitants habitent dans des maisons insalubres (pas d'eau courante, pas d'électricité, pas d'école, ...). Quelques habitants vivent séparés dans des quartiers très riches.</p>
<p><b>Politiques urbaines</b></p> <p>Quels sont les problèmes à résoudre dans les deux agglomérations ?</p>	<p>Comment améliorer la qualité de vie de tous les habitants ?</p>	<p>Comment satisfaire les besoins d'une population toujours plus nombreuse quand on manque d'argent ?</p>

## 2) ailleurs dans le monde

Au début du XXI<sup>ème</sup> siècle, pour la 1<sup>ère</sup> fois dans l'histoire de l'humanité, une personne sur deux vit en ville.

Villes de pays pauvres	Différences avec les villes des pays riches	Ressemblances avec les villes des pays riches
<ul style="list-style-type: none"> <li>→ Lagos au Nigeria, en Afrique p 219</li> <li>→ Manille aux Philippines, en Asie p 237</li> <li>→ Sousse en Tunisie, en Afrique p 237</li> <li>→ Sao Paulo au Brésil, en Amérique p 239</li> <li>→ Shanghai en Chine, en Asie p 240</li> </ul>	<ul style="list-style-type: none"> <li>- bidonvilles :</li> <li>- manque d'équipement</li> <li>- évolution très rapide du paysage urbain</li> </ul>	<ul style="list-style-type: none"> <li>- cœur historique des villes du monde arabo-musulman (Sousse)</li> <li>- quartier des affaires modernes</li> </ul>

Dans les pays pauvres, la population urbaine explose. Huit des dix plus grandes villes du monde y sont situées. Un milliard d'êtres humains vit dans des bidonvilles.

Dans les pays riches, la majorité de la population vit en ville mais la population urbaine n'augmente plus beaucoup.